

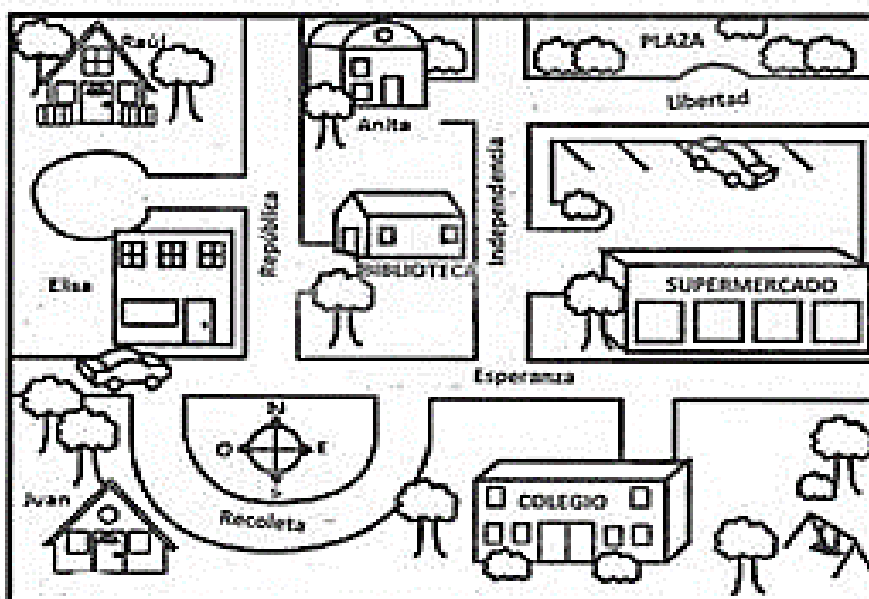


GUÍA HISTORIA, GEOGRAFÍA Y CIENCIAS SOCIALES 2° BÁSICO

NOMBRE	
FECHA	
OBJETIVO	<p>Objetivo: Leer y comunicar información geográfica mediante distintas herramientas (planos, mapas, globos terráqueos y diagramas).</p> <p>Objetivo específico: Ubicarse en su entorno utilizando planos y mapas.</p>
HABILIDADES	<ul style="list-style-type: none"> Reconocer, identificar, asociar, leer.

Indicaciones de trabajo: Lee de la página 8 a la página 21 de tu texto, observa con atención los dibujos que aparecen en ellas, comenta con tu familia lo que es nuevo para ti y lo que ya sabes. Si es necesario, vuelve a leer y luego desarrolla las preguntas que aparecen a continuación.

Actividad 1: Observa la imagen, comenta con un adulto lo que ves y luego responde las siguientes preguntas.



¿Qué puntos de referencia le puedes dar a Raúl para llegar al colegio?

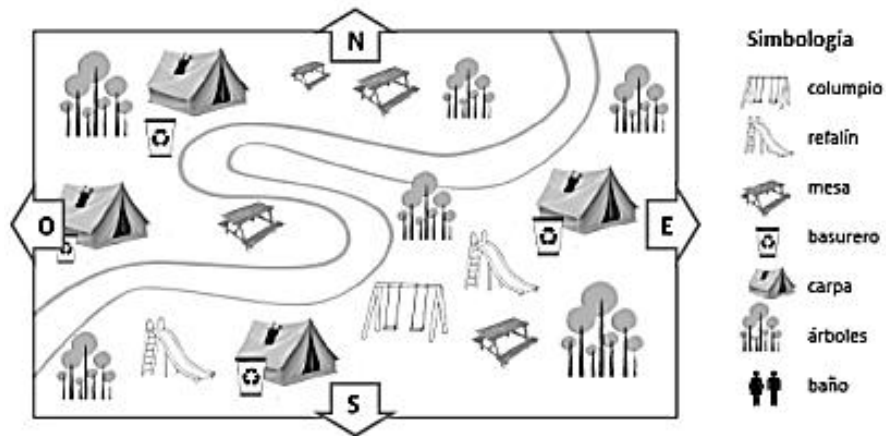
¿Qué se ubica al este de la casa de Juan?

Estas en la biblioteca y una persona te pregunta cómo se puede llegar al colegio, ¿qué instrucciones le darías?



Hoy la clase de Educación Física la harán en la plaza, ¿qué recorrido harán?

Actividad 2: Observa el siguiente plano, observa la simbología, descríbelo a un adulto y responde las preguntas.



¿Qué símbolos se usan en este plano?

¿Cuántas familias caben en el camping?

¿Qué hay al lado de cada carpa?

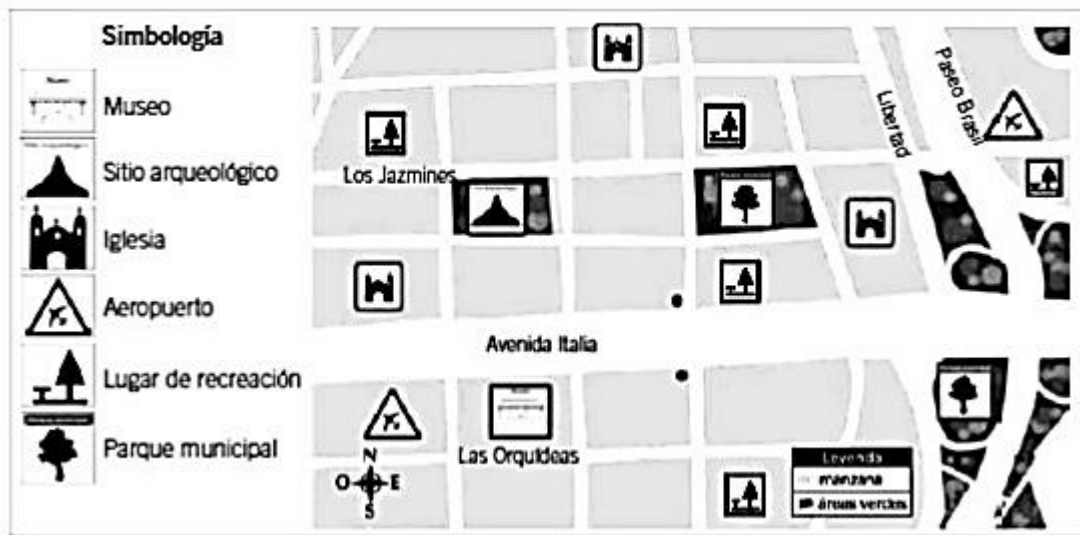
Lo consideras importante, ¿por qué?

Los juegos para niños están ¿a la derecha o a la izquierda del camino?

A este camping le falta algo que es muy importante para las personas, ¿qué es y por qué es importante?



Actividad 3: Observa el siguiente plano y responde.



¿Qué calle queda al sur de Los Jazmines?

¿Cuántas iglesias hay?, ¿cómo lo sabes?

¿Hay más Parques municipales o lugares de recreación?

¿Qué se ubica al este del sitio arqueológico?

Actividad 4: Dibuja el plano de tu casa, para ello utiliza la simbología que consideres necesaria según lo aprendido en el libro.