



# Plan de trabajo **etapa 14**


## 3° Básico Matemática

Semana del 30 al 4 diciembre	Semana del 30 al 4 diciembre	Semana del 30 al 4 diciembre
<p><b>Objetivo:</b> Describir la localización de un objeto en un mapa simple o cuadrícula</p> <p><b>Materiales para la clase:</b> Texto del estudiante, lápiz grafito, goma.</p>	<p><b>Desarrolla la guía de trabajo</b></p> <p><b>Enviar fotografía</b></p>	<p>Cuaderno de ejercicios página 136-137-138-139</p> <p>No enviar fotografía</p>



## GUÍA DE TRABAJO ETAPA 14

1. Observa el siguiente plano y responde:

	A	B	C	D	E	F	G
1		bosque 				pirata 	
2							
3				tesoro 			
4		barco 	lago 				hospital 
5							

**A** ¿Para qué sirven las letras y números que aparecen en el plano?

**B** ¿Qué se encuentra en la casilla B1?

**C** ¿De qué forma pueden señalar la ubicación del tesoro en el plano?







Completen la siguiente tabla indicando la posición que tienen en el plano:

Lago	Hospital	Bosque	Pirata



2. Observa el siguiente plano que tiene señaladas las posiciones de diferentes naves espaciales.

Observa el siguiente plano, que tiene señaladas las posiciones de diferentes naves espaciales.

	A	B	C	D	E	F	G	H
1								
2								
3								
4								
5								

Responde las preguntas:

**A** ¿En qué lugar están ubicadas las siguientes naves?



.....



.....



.....

**B** ¿Qué nave está ubicada en la posición D5?

Dibújala aquí:

¿Y en la posición B4?

Dibújala aquí:

**C** ¿Qué nave está más cerca del planeta Tierra? ¿Cuál está más lejos?  
Explica tus respuestas.

**D** Una nave no fue registrada. Está ubicada en el plano, 2 cuadros a la derecha y 3 cuadros abajo, respecto del planeta Tierra. **Márcala en el plano.**

**E** Dibuja una nueva nave sobre el plano, **sin mostrarla a tu pareja.** Dense las instrucciones para ubicarla en la posición correcta.  
Evalúen sus respuestas.