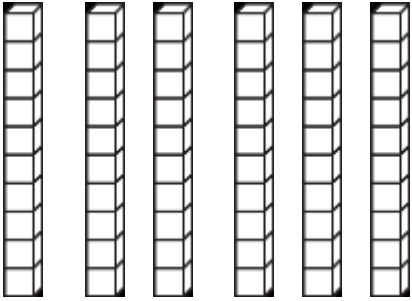
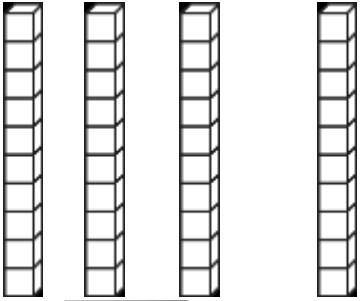
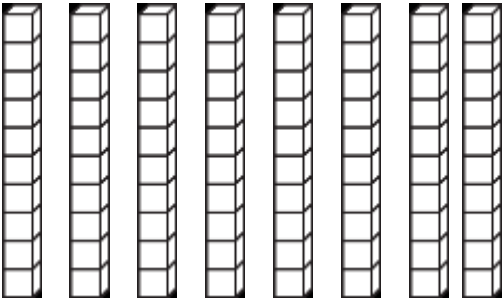
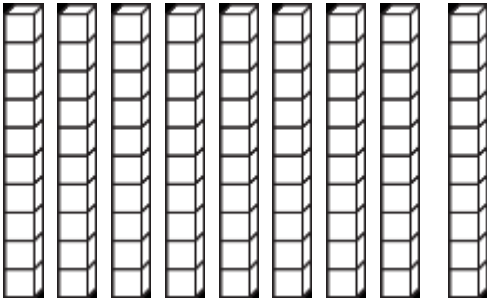




Guía Matemática 2do básico.

Trabajar guía día lunes, miércoles y jueves (horario correspondiente a clases de matemática)


1. Cuenta los bloques y escribe el número que corresponde en el recuadro.

 <input type="text"/>	 <input type="text"/>
 <input type="text"/>	 <input type="text"/>


2. Escribe los números de 2 en 2 completando la tabla.

1		3		5		7		9	
11		13		15		17		19	
21		23		25		27		29	
31		33		35		37		39	
41		43		45		47		49	
51		53		55		57		59	
61		63		65		67		69	
71		73		75		77		79	
81		83		85		87		89	
91		93		95		97		99	


2. Pascal tiene un desafío de contar cuantos huevos hay en los nidos y escribir el número en el recuadro. Tú puedes!!!



3. Escribe en cada mano los números de 5 en 5 hasta completar 100.



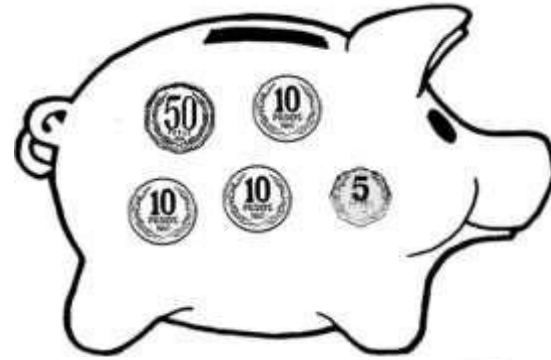
4. ¿Cuántos huevos hay en los nidos? Recuerda contar de 5 en 5.



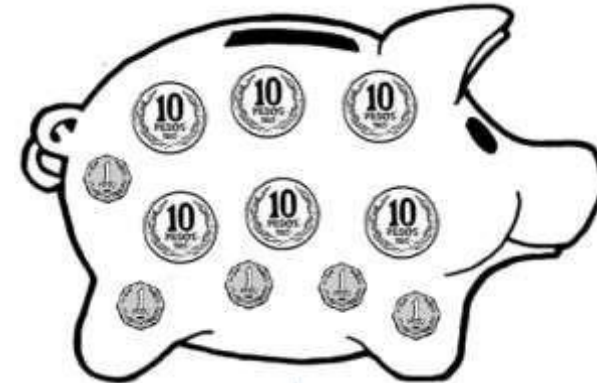
5. ¿Cuántas monedas de \$5.- hay? Cuéntalas y escribe el número.



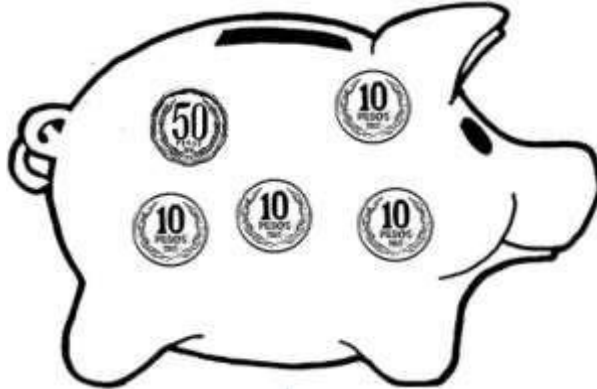
6. Cuenta las monedas que hay en cada alcancía y luego une con la cantidad que corresponde. Marca con una X la alcancía que tiene más dinero.



90




85




65

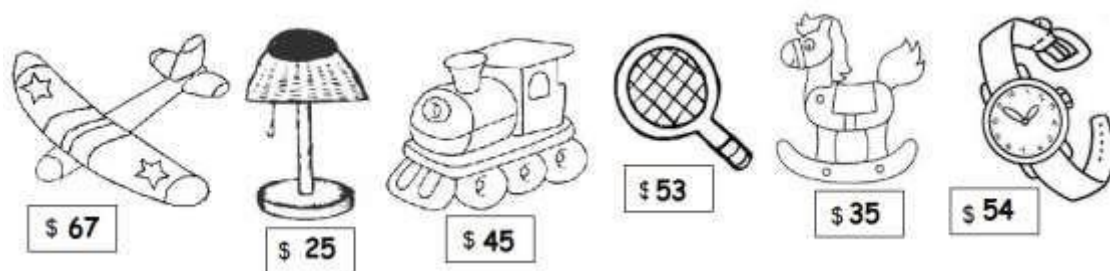
8. Pinta dos números mayores de 50.



9. Pinta dos números mayores de 70.



10. Ordena los precios de mayor a menor.



--	--	--	--	--	--

11. Lee con atención y luego responde cada pregunta encerrando en una línea la correcta.

<p>1.- El número 86 se lee.</p> <p>a. sesenta y ocho. b. ocho y seis c. ochenta y seis.</p>	<p>2.- El número 79 se lee.</p> <p>a. sesenta y nueve. b. setenta y nueve. c. noventa y siete.</p>
<p>1.- El número 28 se lee.</p> <p>a. veintidós. b. veintiocho c. ochenta y dos.</p>	<p>2.- El número 69 se lee.</p> <p>a. setenta y nueve. b. sesenta y nueve. c. noventa y seis.</p>
<p>1.- El número 46 se lee.</p> <p>a. sesenta y cuatro. b. cuarenta y cuatro. c. cuarenta y seis.</p>	<p>2.- El número 33 se lee.</p> <p>a. trece y tres. b. tres y tres. c. treinta y tres.</p>
<p>1.- El número 52 se lee.</p> <p>a. cinco y dos. b. cincuenta y dos. c. siete.</p>	<p>2.- El número 88 se lee.</p> <p>a. ocho más ocho. b. ochenta y siete. c. ochenta y ocho.</p>

Resuelve los siguientes problemas de adición y sustracción.

1. En los problemas siguientes **pinte la pregunta y encierre** en un círculo la operación que realizará y la respuesta correcta.

a) Jorge compró un dulce a \$15 y una galleta a \$35. ¿Cuánto dinero gastó?

Para saber la respuesta yo: sumaré (+) restaré (-)

Gastó: \$35 \$45 \$50

b) Marcela quiere comprar un cepillo que cuesta \$50 y sólo tiene \$42. ¿Cuánto dinero le falta?

Para saber la respuesta yo: sumaré (+) restaré (-)

Gastó: \$8 \$18 \$28

c) Martín ha leído 24 páginas de un libro que tiene 48 páginas en total. ¿Cuántas páginas le faltan por leer?

Para saber la respuesta yo: sumaré (+) restaré (-)

Gastó: 18 páginas 24 páginas 28 páginas

2. Calcule y responda:

a) Tengo 24 pesos y mi mamá me regala 20 pesos más. Ahora tengo..... pesos.



b) Tengo 47 pesos y encuentro 3 pesos más en un cajón. Ahora tengo..... pesos.



c) ¿Quién tiene más dinero, el niño o la niña? ¿cuánto más?

.....

d) ¿Quién tiene menos dinero? ¿cuánto menos?

.....