



# Plan de trabajo **etapa 8**

## 2° Básico Matemática.

<b>Jueves 20 de agosto</b>	<b>Semana</b>
<p><b>Clases online 10:00</b></p> <p><b><i>Se ruega puntualidad.</i></b></p> <p><b>Objetivo:</b> Reforzar lo visto en las clases anteriores</p> <p><b>Materiales para la clase:</b> cuaderno, lápiz grafito, goma, libro.</p>	<p>Desarrollo guía de trabajo n°1</p>
<b>Jueves 27 de agosto</b>	<b>Semana</b>
<p><b>Clases online 10:00</b></p> <p><b><i>Se ruega puntualidad.</i></b></p> <p><b>Objetivo:</b> Contar hasta 1000</p> <p><b>Materiales para la clase:</b> cuaderno, lápiz grafito, goma, libro.</p>	<p>Desarrollo guía de trabajo n°2</p>



### **Guía de trabajo n°1:**

**Copia lo siguiente en tu cuaderno: Recuerda poner el objetivo y la fecha (jueves 20 de agosto)**

**Objetivo:** Reforzar lo visto en las clases anteriores

#### **Trufas de chocolate.** **Receta para 20 trufas (aprox)**

**1 queque de chocolate (400 gr aprox)**  
**4 cucharadas de manjar (60 gr aprox)**  
**1 taza Chocolate cobertura (150 gr aprox)**  
**Chips de chocolate**

De acuerdo a la receta de trufas realizada por la tía Ximena, ¿qué deberías hacer con los ingredientes si quieres preparar 80 trufas? Explica tu respuesta y has el ejercicio

---

---

---

---

¿Y si quiero preparar solo 10 trufas, cuánto necesitaré de cada ingrediente? ¿Cómo lo puedo calcular? Explica tu respuesta y has el ejercicio

---

---

---

---

Escribe los números que encuentres en la receta con palabras, ejemplo:

1 uno  
4 cuatro

---

---

---

---

---



Prof. Gabriela Urbina Labra  
Colegio Abraham Lincoln M. College

**¿Conoces alguna receta? Escríbela acá abajo.**

---

---

---

---

---

---

---

---

**Dibuja tu receta:**



## Guía de trabajo n°2:

**Copia lo siguiente en tu cuaderno: Recuerda poner el objetivo y la fecha  
(jueves 27 de agosto)**

*Recuerda que este libro no ha llegado al colegio, por ello copia las actividades en el cuaderno, si las imprimes debes pegarlas para que queden registradas.*

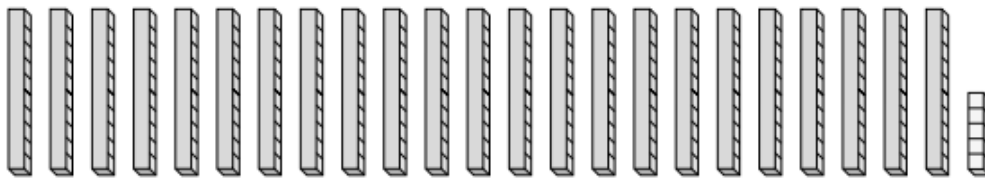
**Objetivo:** Contar hasta 1000

**1** ¿Cuántos hay?



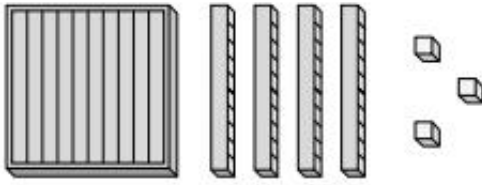
Respuesta:  lápices.

**2** Completa.



Respuesta: Hay  grupos de 10 y .

**1** ¿Cuántos hay?



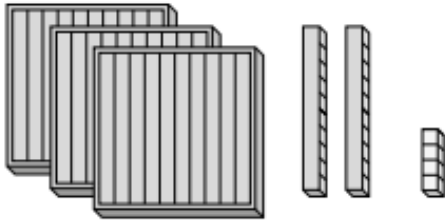
Respuesta:  cubos.

**3** ¿Cuántos lápices hay?



Respuesta:  lápices.

**2** ¿Cuántos hay?



Respuesta:  cubos.

**4** ¿Cuántos hay?



Respuesta:  lápices.

**1** Sigue contando y completa.

a)

<input type="text" value="310"/>	<input type="text"/>	<input type="text"/>	<input type="text"/>

b)

<input type="text" value="111"/>	<input type="text"/>	<input type="text"/>	<input type="text"/>

c)

<input type="text" value="21"/>	<input type="text"/>	<input type="text"/>	<input type="text"/>