



Plan de trabajo

Estimados Padres y Apoderados, espero que se encuentre todos bien en el hogar, a continuación se detalla el plan de trabajo para avanzar en el aprendizaje de los niños y niñas.

Clase 34 Lunes 29 de junio	Clase 35 Miércoles 01 de julio	Clase 36 Jueves 02 de julio	Clase 37 Viernes 03 de julio
Feriado Nacional	Números hasta el 20 En tu cuaderno, dibuja elementos que representen los siguientes números: 11 13 15 16 18 20	Números hasta el 20 En tu cuaderno, dibuja elementos que representen los siguientes números: 12 14 17 19 10 20	Conformar grupos En tu cuaderno crea 2 conjuntos que sumados te den como resultado las siguientes cifras: 14 19 20 11 12 Ejemplo: Dibujo 5 pelotas en un conjunto y dibujo en otro conjunto 8 pelotas más, los cuales al sumarlos me dan como resultado 13, que era la cifra solicitada.
Clase 38 Lunes 06 de julio	Clase 39 Miércoles 08 de julio	Clase 40 Jueves 09 de julio	Clase 41 Viernes 10 de julio
Conformar grupos En tu cuaderno crea 2 conjuntos que sumados te den como resultado las siguientes cifras: 18 15 13 17 16	Números mayores a 10. Desarrolla la página 74, 75 y 76 del texto del estudiante.	Números mayores a 10. Desarrolla la página 33 y 34 del cuaderno de actividades.	Evaluando lo aprendido. Desarrollar guía evaluada que aparece a continuación.

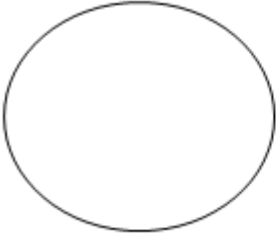
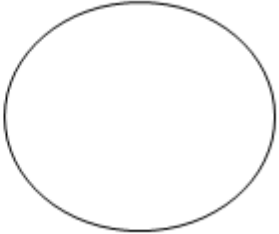
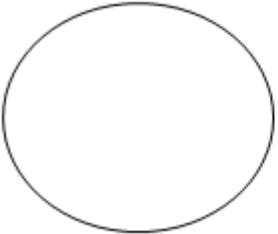
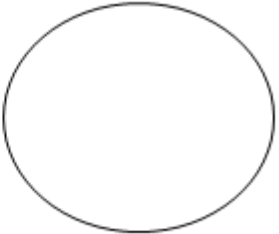
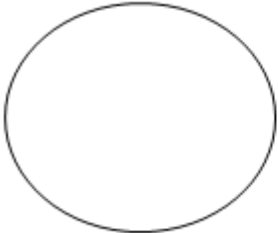
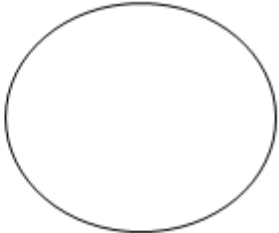
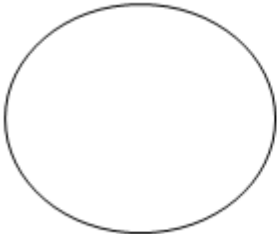
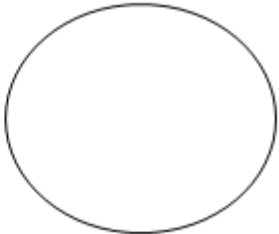


Evaluando lo aprendido *Etapa VI*

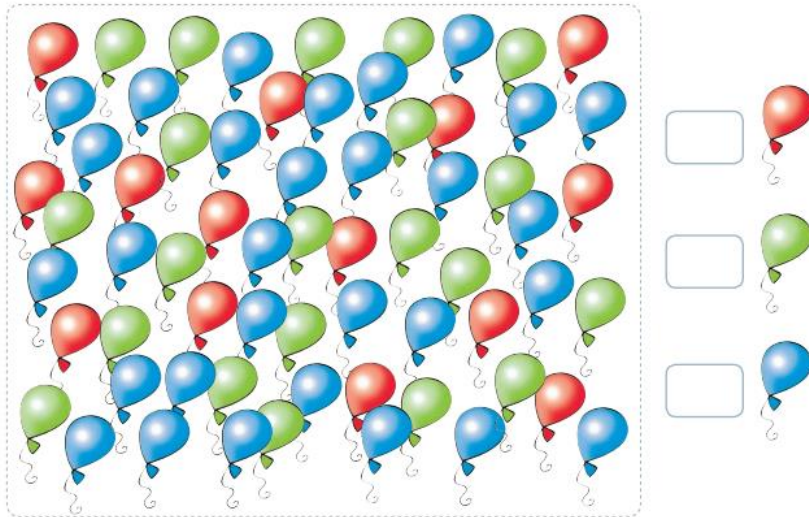

Nombre: _____

Objetivos: OA 9: Demostrar que comprenden la adición y la sustracción de números del 0 al 20, del 0 a 5, de 6 a 10, de 11 a 20 con dos sumandos. Habilidad: Representar, modelar, argumentar y comunicar.	Puntaje real	Puntaje ideal 22	Nota
--	--------------	----------------------------	------

1) En los siguientes conjuntos, dibuja la cantidad que corresponda para que conformen el resultado (8 puntos).

 +  = 12
 +  = 17
 +  = 20
 +  = 19

2) Cuenta los elementos y escribe el número que corresponda (10 puntos).



3) Cuenta las bananas y une según la cantidad que corresponda (4 puntos).

