



Plan de trabajo **etapa 14**

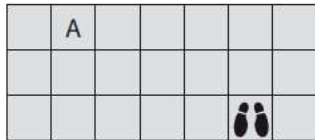
2° Básico Matemática.

Semana del 30 al 4 de diciembre	Semana del 30 al 4 de diciembre	Semana del 30 al 4 de diciembre
<p>Objetivo: Representar y describir la posición de objetos y personas en relación a sí mismos y a otros</p> <p>Materiales para la clase: Material impreso</p>	Desarrolla actividad etapa 14	Desarrolla actividad etapa 14



ACTIVIDAD ETAPA 14

1



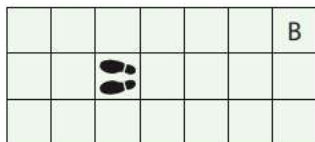
Álvaro está parado en una baldosa, como indican sus pies.

Completa las instrucciones para que Álvaro llegue a la baldosa marcada con la letra A.

Gira hacia tu _____, avanza _____ baldosas.

Gira hacia tu _____ y avanza _____ baldosas.

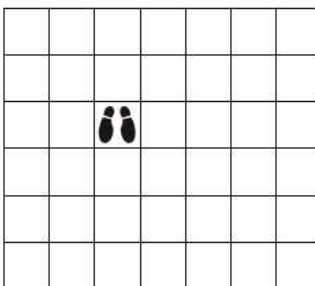
2



Bernardita está parada en una baldosa, como indican sus pies.

Indícale cómo llegar a la baldosa marcada con la letra B.

3



Imagina que los pies que aparecen son los tuyos, y te encuentras sobre una baldosa.

Ahora giras hacia tu derecha y avanzas dos baldosas.

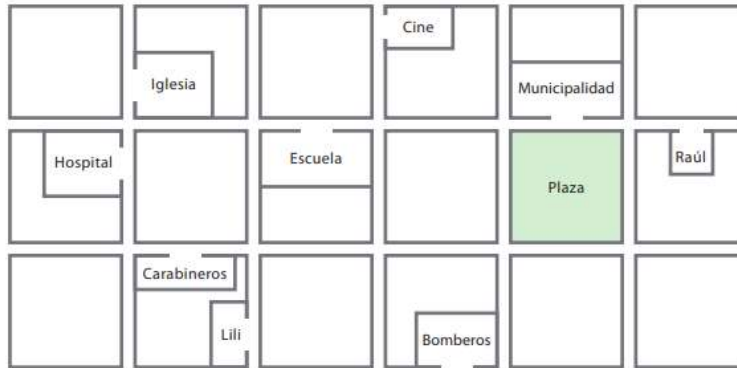
Después giras a la izquierda y avanzas dos baldosas.

Giras a la izquierda nuevamente y avanzas cuatro baldosas.

Pinta la baldosa a la cual llegaste.



Este mapa representa parte de la Villa Los Queltehues.
Las puertas de entrada de los edificios y casas aparecen abiertas.
La distancia de una calle a la siguiente es una cuadra.
Se muestran las casas de Lili y de Raúl.



A) Explícale a Raúl cómo llegar de su casa a la de Lili.

B) Explica cómo se llega del hospital al cine.

C) Si sales del cuartel de los bomberos hacia tu derecha, al llegar a la esquina, doblas hacia la derecha y caminas dos cuadras. Doblas hacia la izquierda y caminas dos cuadras. Doblas hacia tu derecha. ¿Frente a qué edificio te encuentras?