



Plan de trabajo **etapa 1**

3° Básico Matemática

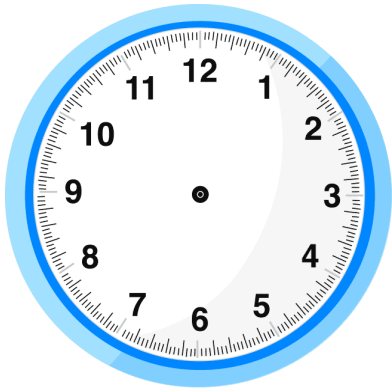
Semana del 16 al 20 de noviembre	Semana del 16 al 20 de noviembre	Semana del 16 al 20 de noviembre
<p>Objetivo: Leer y registrar el tiempo en horas y medias horas</p> <p>Materiales para la clase: Libro del estudiante, lápiz grafito, goma.</p>	<p>Resuelven actividad n°1</p> <p>Enviar fotografía</p>	<p>Texto del estudiante página 216, 217, 218, 219</p> <p>No enviar fotografía</p>
Semana del 23 al 27 de noviembre	Semana del 23 al 27 de noviembre	Semana del 23 al 27 de noviembre
<p>Objetivo: Leer y registrar el tiempo en horas, medias horas y cuartos de horas.</p> <p>Materiales para la clase: Libro del estudiante, lápiz grafito, goma.</p>	<p>Resuelven actividad n°2</p> <p>Enviar fotografía</p>	<p>Texto del estudiante página 220, 221.</p> <p>No enviar fotografía</p>



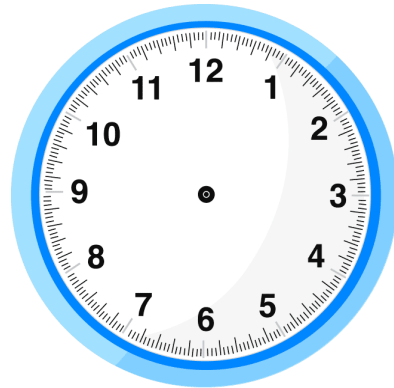
GUÍA DE TRABAJO N°1: ETAPA 13

Actividad 1: Completa el reloj según la hora indicada

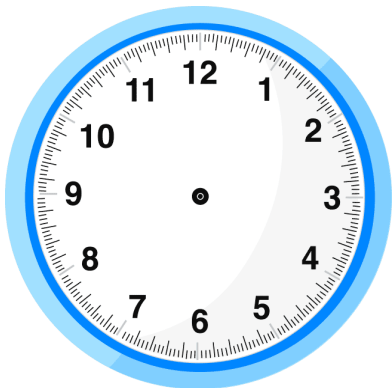
1. Nueve en punto



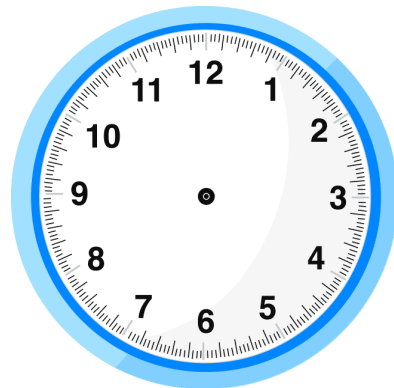
4. Cuatro treinta



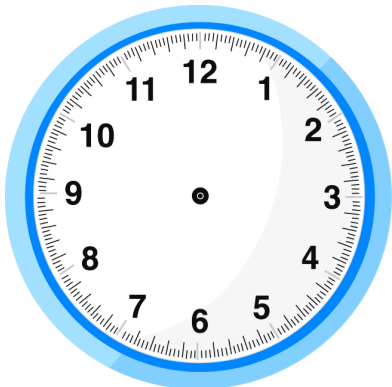
2. Ocho en punto



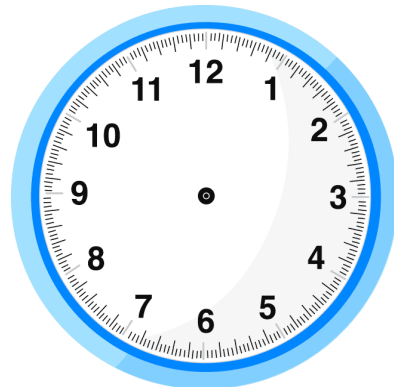
5. Ocho y media



3. Diez y media

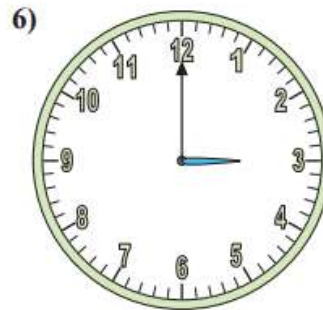
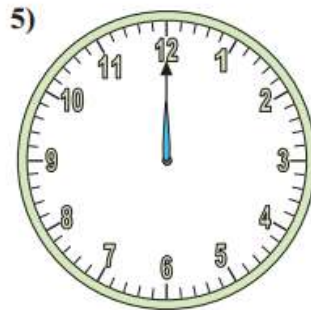
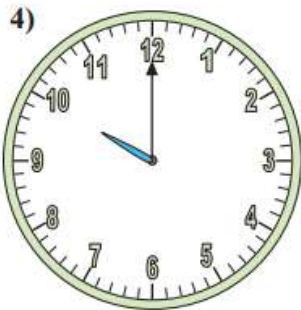
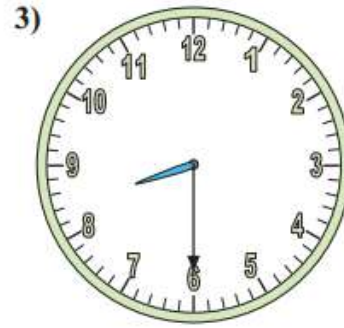
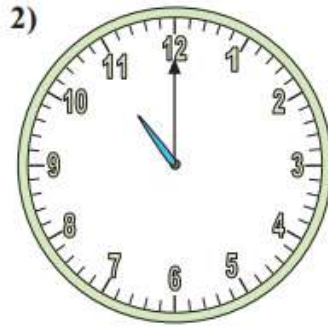
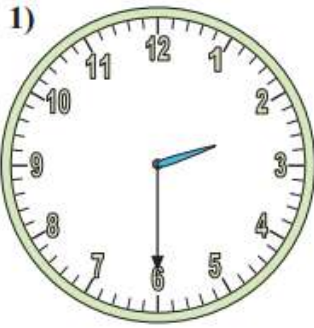


6. Dos en punto






Actividad 2: Determine la hora que muestra cada reloj





GUIA DE TRABAJO N°2: ETAPA 13



En Villa Alegre, vive un niño llamado Felipe. Él tiene 8 años y durante el día realiza muchas actividades. Se levanta a las **07:00** de la mañana. Luego de bañarse, desayunar y lavarse los dientes, se va al colegio. A las **07:45** sale de su casa y a las **08:15** entra a clases. A las **12:00** almuerza en el casino del colegio y a las **16:00** hrs vuelve a casa. A las **05:00** de la tarde Felipe asiste a sus clases de natación y a las **06:30** regresa a casa. Luego de bañarse, comer, estudiar y ver un poco de televisión, se duerme a las **09:00** de la noche.





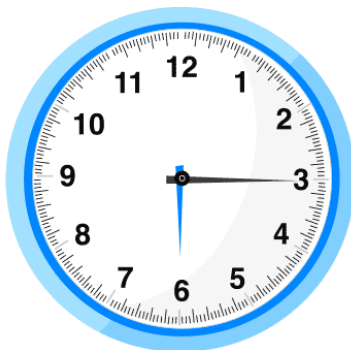
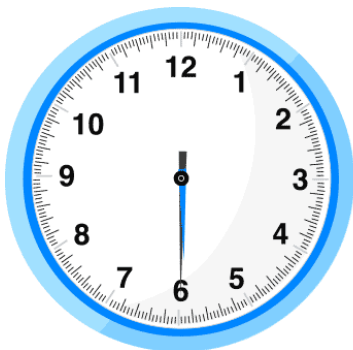
1. Encierre en un círculo el reloj que indica la hora en que se levanta Felipe.



2. Marque con una cruz el reloj que indica la hora en que Felipe entra a clases.

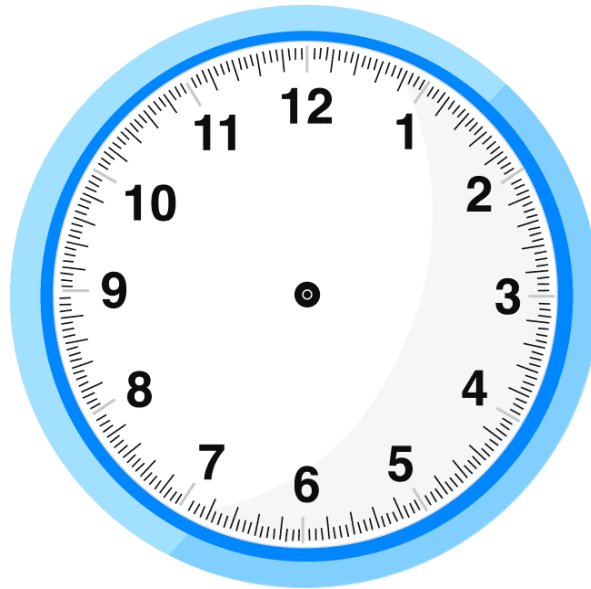


3. Encierre con una línea el reloj que indica la hora en que Felipe regresa a casa después de haber asistido a clases de natación.





4. Dibuje en el siguiente reloj la hora en que Felipe se acuesta a dormir:



5. Une con una línea los relojes que muestran la misma hora.
